


ゆうあい、

特別養護老人ホーム ゆうあいホーム / 大竹市養護老人ホーム ゆうあいの里 / ゆうあいホーム短期入所生活介護事業所 / デイサービスセンターゆうあいホーム / 訪問介護事業所ゆうあい / 居宅介護支援事業所ゆうあい / 訪問入浴介護事業所ゆうあい / 訪問看護事業所ゆうあい / 介護タクシーゆうあい / 小島新開の家デイサービスセンター / 小島新開の家デイサービス事業所 / 認知症対応型共同生活介護グループホームふきのとう / 小規模多機能型居宅介護ふきのとう

発行 社会福祉法人 広島友愛福祉会 大竹市玖波4 - 8 - 8 TEL 0827-57-7500 発行責任者 立山 道男



脳の訓練？それともひまつぶし？


高齢者施設の仕事に携わって1年半。最近殊に記憶力に不安を覚えます（記憶力がもともとないのかもしれませんが）。仕事を忘れまいとメモした大事な紙をどこかへ置き忘れてしまったり、見つかってもメモの中身を忘れてしまっていたり（先日、日付だけを書いたメモを見て、何か大切な用事があったことだけは覚えていても、その用事が思い出せずに当日を迎えて青ざめた経験が）……。脳を鍛えなきゃ！




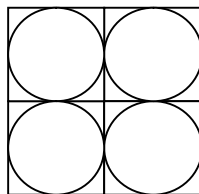
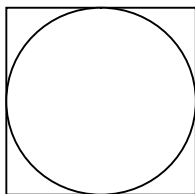
最近巷には脳を活性化するための本やゲームなどがいっぱい。手を使うソロバン、折り紙、音読や計算等々。では昔、子どもの頃にやっていた図形の問題をやってみてはどうだろう？てなわけで、今回もまた暇つぶし算数の問題です。かつてやったことのある人も時間を作ってやってみませんか。

（瀧口 年彦 事務長補佐）


（1）次の正三角形の中に正三角形は何個ある？



（2）次の3つの円形のチーズ詰め合わせのうち、どれがお買い得ですか。ただし、どれも厚さは同じで箱の大きさも同じです。図は上から見たところで仕切りの厚さは考えません。



（3）下の図は正方形の紙を16の正方形に分けたものです。図の黒い部分を除いて、形も大きさも同じ5つの図形に切り分けてください。



（答えは 7ページ）